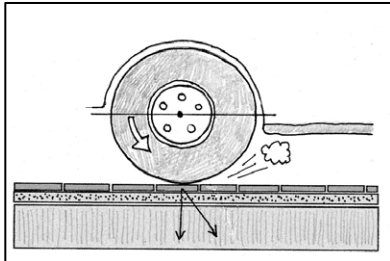


# 1 Beanspruchungsarten von Belägen

a Fahrbahnen müssen verschiedene Belastungen aushalten. Welche erkennen Sie auf den Bildern<sup>1</sup>? Schreiben Sie bekannte Begriffe auf.

Begriffe

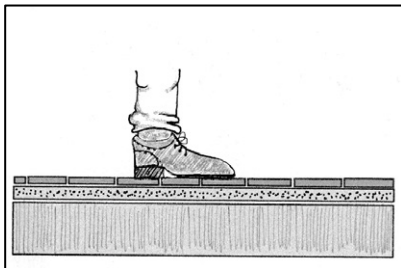


---

---

---

---

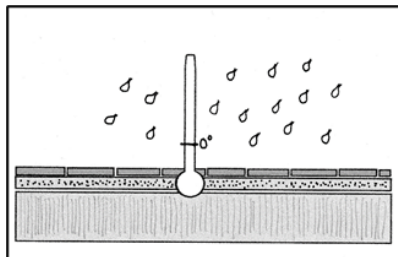


---

---

---

---



---

---

---

---

b Ordnen Sie die folgenden Wörter in die Tabelle ein. Überlegen Sie, was die Wörter bedeuten.

gleichmäßig, das Material, die Lagerung, ruhend, der Verkehr, lagern,  
rollend, die Last, der Regen, einschlagen, stoßend

**Nomen**

*das Pflaster*

**Verben**

*verlegen*

**Adjektive**

*dicht*

<sup>1</sup> Abbildungen Peter Weise

**c Finden Sie in Aufgabe 1 b Wörter, die zusammenpassen. Notieren Sie diese.**

---

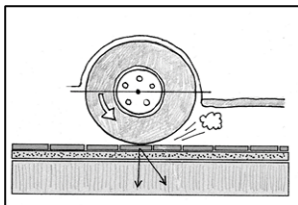
---

---

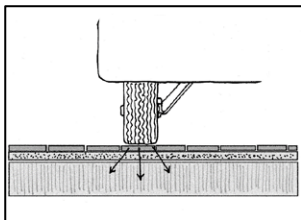
---

---

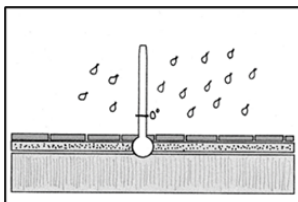
**d Verbinden Sie die Beschreibungen mit den Bildern<sup>2</sup>.**



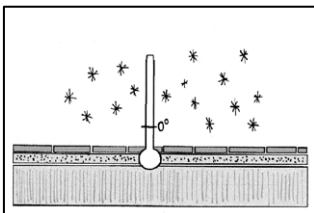
Feuchtebelastung durch Regen



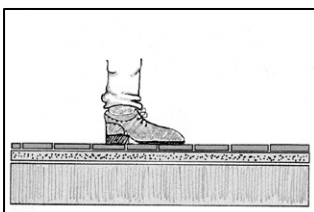
rollende Lasten



Eis und Schnee



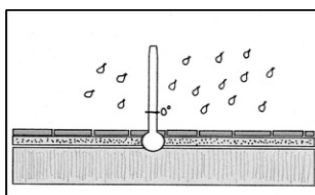
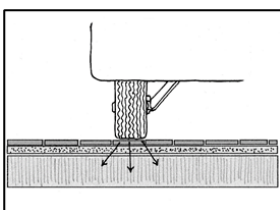
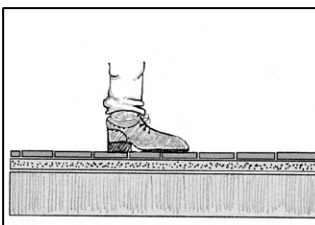
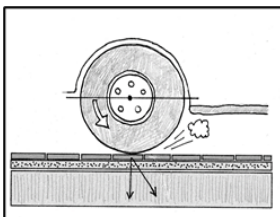
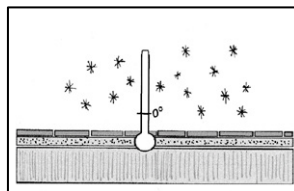
Fußgängerverkehr



Punktlasten

<sup>2</sup> Abbildungen Peter Weise

**c Welche Anforderungen zur Bauausführung gehören zu den Bildern<sup>3</sup>.  
Schreiben Sie sie neben die Bilder.**



<sup>3</sup> Abbildungen Peter Weise